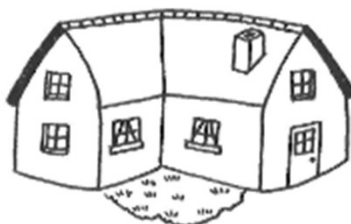
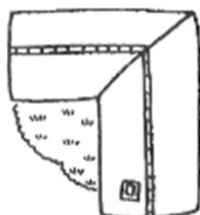
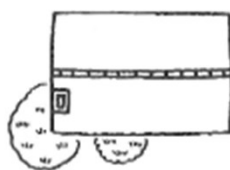
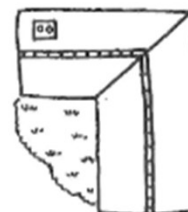
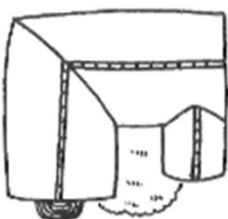
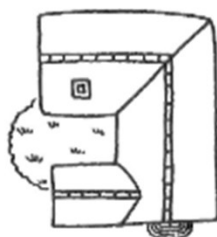


## Série verte – Espace et géométrie

# Point de vue

Observe ces maisons. Chacune est représentée deux fois. Une fois de côté et une fois d'en haut.

Associe les deux vues des maisons (du dessus et de côté).



## Solution - série verte – Espace et géométrie

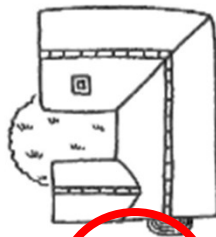
# Point de vue

Observe ces maisons. Chacune est représentée deux fois. Une fois de côté et une fois d'en haut.

Associe les deux vues des maisons (du dessus et de côté).



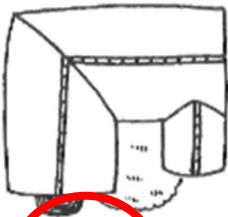
1



2



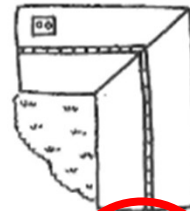
3




3




4



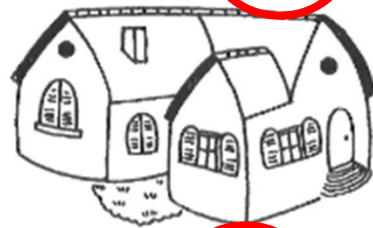
5



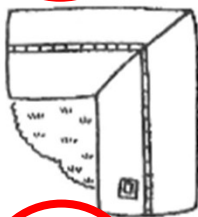
5



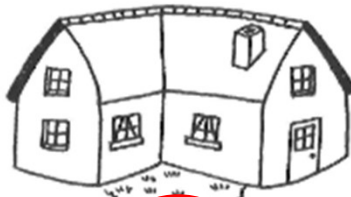
4




2



6



6



1