

## Série arc en ciel – Nombres et calculs











# Symbolisme

Dans chaque case de la grille ci-dessous doit figurer l'un des quatre symboles suivants :



Chacun de ces symboles représente un nombre entier différent.

Compléter la grille pour que chaque somme des quatre nombres de chacune des lignes ou colonnes de la grille soit le nombre indiqué par la flèche.

				→ 9
				→ 20
				→ 12
				→ 6
↓ 12	↓ 8	↓ 14	↓ 13	