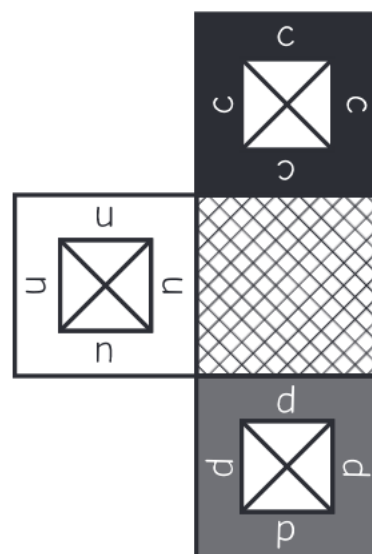



Le chasse - nombre

Trouve le plus grand nombre qu'on peut attraper avec le chasse-nombre.

Expliquez comment vous avez fait.









Remarques

Découper le chasse nombre en évitant l'intérieur des fenêtres.

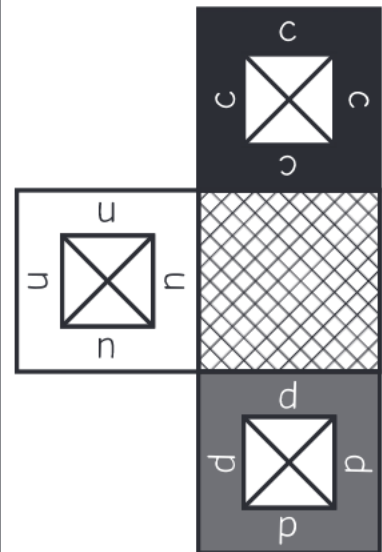
En plaçant le chasse-nombre sur une grille, on attrape un nombre de trois chiffres : le chiffre des centaines apparaît dans le cadre noir, le chiffre des dizaines dans le cadre gris, le chiffre des unités dans le cadre blanc.







Le chasse-nombre peut pivoter mais ne peut pas être retourné.

Série jaune - Nombres et calculs

| | | | | |
|---|--|---|--|--|
| 6 | 9 |  | 5 |  |
|  | 5 | 7 | 6 |  |
| 4 | 0 | 9 | 3 | 4 |
| 5 | 7 | 6 | 7 | 5 |
| 0 |  | 1 |  | 8 |

Matériel à découper



| | | | | |
|---|---|---|---|--|
| 6 | 9 |  | 5 |  |
|  | 5 | 7 | 6 |  |
| 4 | 0 | 9 | 3 | 4 |
| 5 | 7 | 6 | 7 | 5 |
| 0 |  | 1 |  | 8 |

