





Série verte - Espace et géométrie

Promenade dans la forêt

La tortue doit offrir un cadeau au lièvre  en passant par la case du blaireau  et en longeant la case de la souris . Elle doit toujours regarder vers les arbres de la forêt. Vous devez trouver au moins 3 chemins différents. Vous pouvez choisir comme cadeau un des objets de la salle de motricité.



				
				
				
				
				DÉPART



Série verte - Espace et géométrie

Promenade dans la forêt

Cette épreuve peut être vécue par les élèves dans la salle de motricité.



Série verte - Espace et géométrie

Promenade dans la forêt

Solutions possibles (Il en existe d'autres) :

