



Série rouge - Espace et géométrie

LA MAISON MAGIQUE

Dimitry et Arthur ont construit une maison magique. Voici les photographies de cette maison.




Série rouge - Espace et géométrie


LA MAISON MAGIQUE

Parmi les photos suivantes, quelle est celle qui correspond aux pièces utilisées pour réaliser la maison. Coche la bonne réponse.


1




2



3



4



Série rouge - Espace et géométrie

LA MAISON MAGIQUE

Parmi les photos suivantes quelle est celle qui correspond aux pièces du patron de la maison. Coche la bonne réponse.

1	<input type="checkbox"/>
---	--------------------------




Patron 1 lien du polypad

<https://mathigon.org/polypad/e46cBG5uoa1IPA>



2	<input type="checkbox"/>
---	--------------------------




Patron 2 lien du polypad

<https://mathigon.org/polypad/hhXark29gdmJiA>



3	<input type="checkbox"/>
---	--------------------------




Patron 3 lien du polypad

<https://mathigon.org/polypad/Z3kJhLBev46XQ>



4	<input type="checkbox"/>
---	--------------------------



Patron 4 lien du polypad

<https://mathigon.org/polypad/dNNUcWJ1rjDgCg>




Série rouge - Espace et géométrie


LA MAISON MAGIQUE

Solutions :

2	
---	--



4	
---	--



Patron 4 lien du polypad

<https://mathigon.org/polypad/dNNUcWJ1rjDgCg>

