


























SERIE BLEUE- Nombres et Calculs

Les animaux de la ferme

Chaque animal cache un nombre.

Chaque animal cache toujours le même nombre.

Quel est le nombre caché par le cheval ?

	+		+		+		+		=	10
	+		+		+		+		=	12
	+		+		+		+		=	12
	+		+		+		+		=	12
	+		+		+		+		=	17

Solution :

SERIE BLEUE- Nombres et Calculs

Les animaux de la ferme






Chaque animal cache un nombre.

Chaque animal cache toujours le même nombre.

Quel est le nombre caché par le cheval ?

$$\begin{array}{ccccccccc} \text{lapin} & + & \text{lapin} & + & \text{lapin} & + & \text{lapin} & + & \text{lapin} & = & 10 \\ \text{lapin} & + & \text{tortue} & + & \text{lapin} & + & \text{lapin} & + & \text{lapin} & = & 12 \\ \text{renard} & + & \text{renard} & + & \text{tortue} & + & \text{tortue} & + & \text{lapin} & = & 12 \\ \text{tortue} & + & \text{lapin} & + & \text{canard} & + & \text{lapin} & + & \text{renard} & = & 12 \\ \text{canard} & + & \text{cheval} & + & \text{renard} & + & \text{canard} & + & \text{cheval} & = & 17 \end{array}$$

Réponse :

 2	 4	 1	 3
 = 5			