


























## SERIE BLEUE- Nombres et Calculs

### Les animaux de la ferme

Chaque animal cache un nombre.

Chaque animal cache toujours le même nombre.

**Quel est le nombre caché par le cheval ?**

	+		+		+		+		=	<b>10</b>
	+		+		+		+		=	<b>12</b>
	+		+		+		+		=	<b>12</b>
	+		+		+		+		=	<b>12</b>
	+		+		+		+		=	<b>17</b>

**Solution :**