

Série VERTE- Logique

## Bien placés






















Mehmet a placé des cœurs dans le tableau, mais il n'a pas terminé.

Il en reste **sept à placer** : 

**Trouve comment Mehmet peut placer les cœurs qu'il lui reste dans les bonnes cases.**

*Fais attention à :*

- la somme des nombres de cœurs indiquée au-dessus de chaque colonne.
- la somme des nombres de cœurs indiquée à droite de chaque ligne.

3	3	2	3	2	4	2	3	4	2	
										4
										6
										6
										6
										6