





Série ROUGE – Nombres et Quantités

## UNE HISTOIRE DE PATTES

Chaque matin, un fermier  sort ses animaux de la ferme .

Il y a des vaches  et des poules .

Il compte 20 pattes.

Combien y a-t-il de vaches et de poules ?

Trouve au moins deux solutions.

Remarques :

- Favoriser la libre représentation de la situation par les élèves. A la demande, le matériel joint pourra être distribué.
- La classe pourra poursuivre sa recherche pour trouver les quatre solutions possibles.

**Série ROUGE – Nombres et Quantités**

