


## Série bleue - Grandeurs et mesures

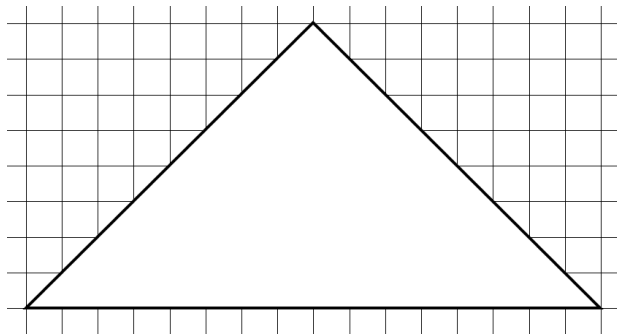
### TIC et TAC

Paul Tic et Myriam Tac doivent carreler les pièces de leur maison.

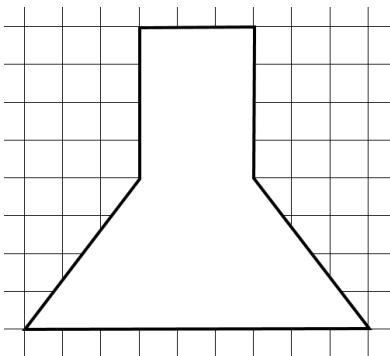
Ils veulent commencer par la pièce ayant la plus petite surface et terminer par celle qui a la plus grande.



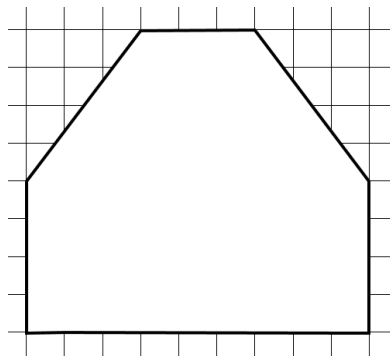
Salon



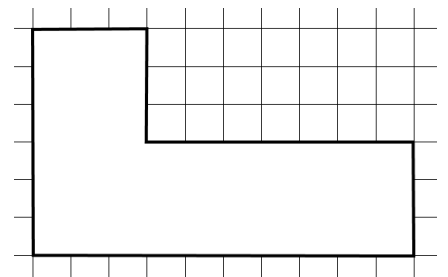
Chambre



Entrée



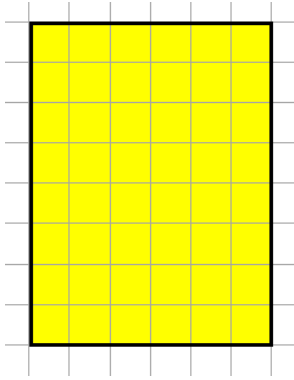
Salle de bain



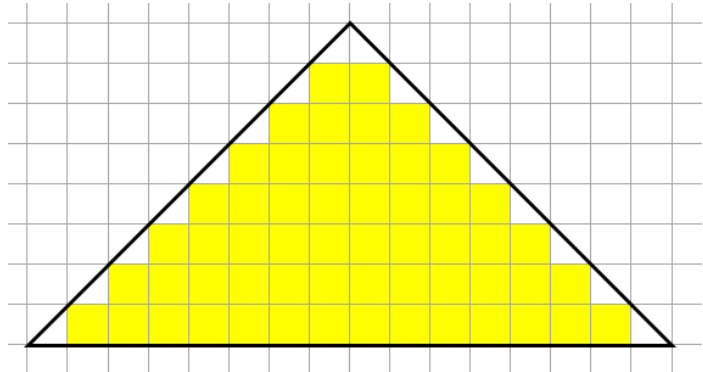
Couloir

**Donnez l'ordre dans lequel ils vont carreler les pièces de leur maison.**

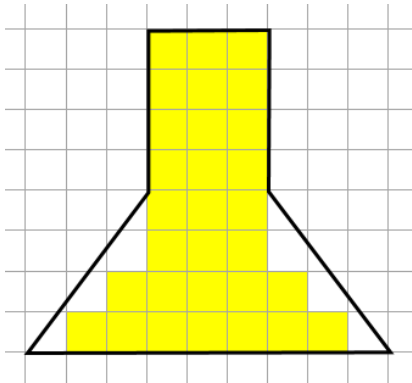
## Solution Série Bleue - Grandeurs et mesures



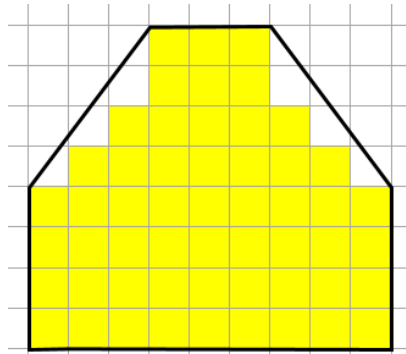
Salon  
48 carreaux



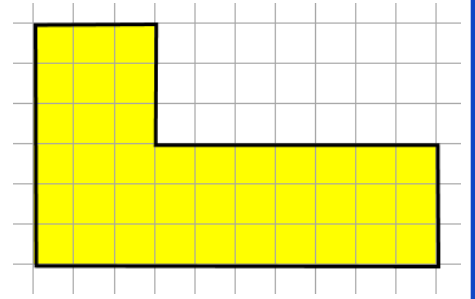
Chambre  
64 carreaux (56 + 8)



Entrée  
36 carreaux (30 + 6)



Salle de bain  
60 carreaux (54 + 6)

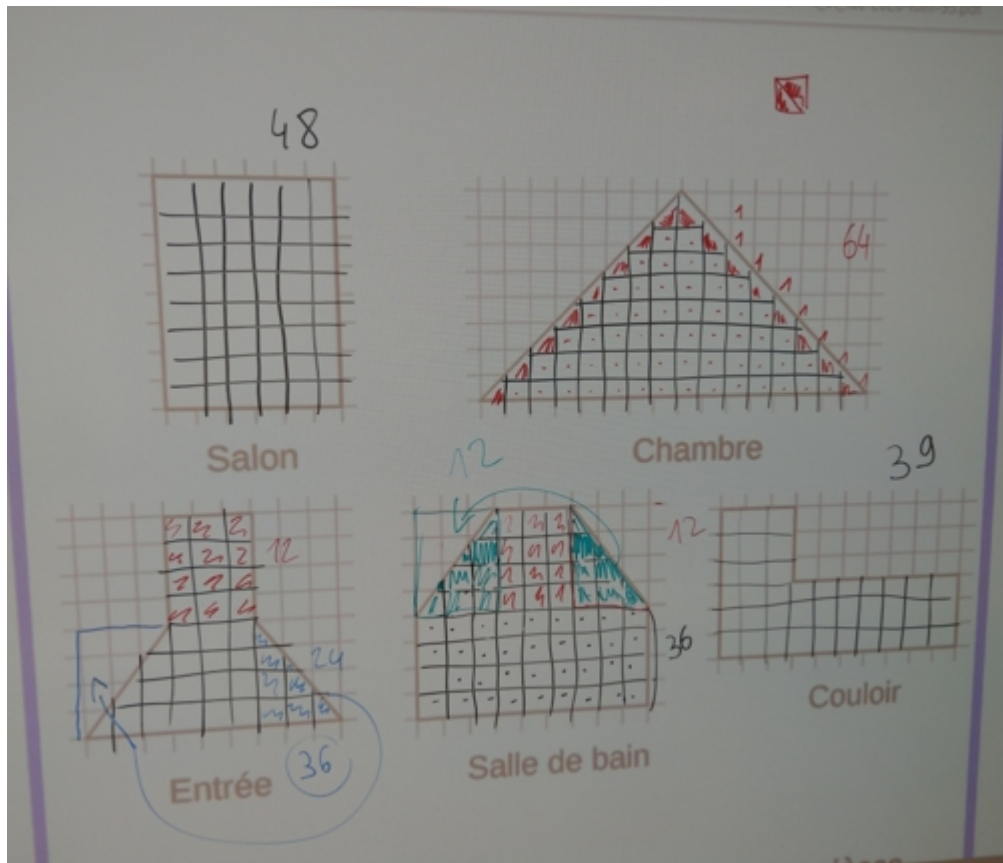


Couloir  
39 carreaux

Ils vont peindre dans l'ordre : l'entrée (36 c), le couloir (39 c), le salon (48 c), la salle de bain (60 c) et la chambre (64 c).

# Solution Série Bleue - Grandeurs et mesures

Démarche de la classe de CM1 de l'école Dunant à Sarcelles



Salon  $\Rightarrow$  48  
chambre  $\Rightarrow$  64  
Entrée  $\Rightarrow$  36  
SDB  $\Rightarrow$  60  
couloir  $\Rightarrow$  39